

Domande

1. Sia $x(t) = \psi(t, t_0, x(t_0), u(\cdot))$ la funzione di transizione dello stato di un sistema dinamico continuo. Completare le seguenti definizioni:

Uno stato $x(t_1)$ è raggiungibile dallo stato $x(t_0)$ nell'intervallo di tempo $[t_0, t_1]$ se ...

esiste una funzione di ingresso $u(\cdot) \in \mathcal{U}$ tale che $x(t_1) = \psi(t_0, t_1, x(t_0), u(\cdot))$.

Uno stato $x(t_0)$ è controllabile allo stato $x(t_1)$ nell'intervallo di tempo $[t_0, t_1]$ se ...

esiste una funzione di ingresso $u(\cdot) \in \mathcal{U}$ tale che $x(t_1) = \psi(t_0, t_1, x(t_0), u(\cdot))$.

2. Sia dato un sistema *lineare, discreto, tempo-invariante* descritto dalle matrici $\mathbf{A}, \mathbf{B}, \mathbf{C}$. Completare la seguente definizione:

Due stati \mathbf{x}_1 e \mathbf{x}_2 sono indistinguibili nel futuro in k passi se ...

per ogni successione di ingresso $\mathbf{u}(0), \dots, \mathbf{u}(k-1)$, le successioni di uscita $\mathbf{y}_1(\cdot)$ e $\mathbf{y}_2(\cdot)$, che corrispondono agli stati iniziali $\mathbf{x}_1(0)$ e $\mathbf{x}_2(0)$, coincidono nei primi k passi:

$$\mathbf{x}_1(0) \stackrel{k}{\approx} \mathbf{x}_2(0) \quad \Leftrightarrow \quad \mathbf{y}_1(\tau) = \mathbf{y}_2(\tau), \quad 0 \leq \tau \leq k$$

3. Relativamente al sistema lineare discreto $\mathbf{x}(k+1) = \mathbf{A}\mathbf{x}(k) + \mathbf{B}\mathbf{u}(k)$, $\mathbf{y}(k) = \mathbf{C}\mathbf{x}(k)$, scrivere in termini delle matrici \mathbf{A} , \mathbf{B} e \mathbf{C} una condizione necessaria e sufficiente per la completa ricostruibilità del sistema:

$$\mathcal{E}^- = \ker \begin{bmatrix} \mathbf{C} \\ \mathbf{CA} \\ \vdots \\ \mathbf{CA}^{n-1} \end{bmatrix} \subseteq \ker \mathbf{A}^n$$

4. Sia $S' = (\mathbf{T}^{-1}\mathbf{A}\mathbf{T}, \mathbf{T}^{-1}\mathbf{B}, \mathbf{C}\mathbf{T})$ il sistema che si ottiene da $S = (\mathbf{A}, \mathbf{B}, \mathbf{C})$ applicando la trasformazione di coordinate $\mathbf{x} = \mathbf{T}\mathbf{x}'$. La matrice di trasformazione $\tilde{\mathbf{T}}$ che permette di passare dal sistema S_D (duale di S) al sistema S'_D (duale di S') in base alla trasformazione di coordinate $\mathbf{x}_D = \tilde{\mathbf{T}}\mathbf{x}'_D$ è

- ☐ $\tilde{\mathbf{T}} = \mathbf{T}^T$
- ☐ $\tilde{\mathbf{T}} = \mathbf{T}^{-1}$
- ☒ $\tilde{\mathbf{T}} = (\mathbf{T}^T)^{-1}$
- ☒ $\tilde{\mathbf{T}} = (\mathbf{T}^{-1})^T$

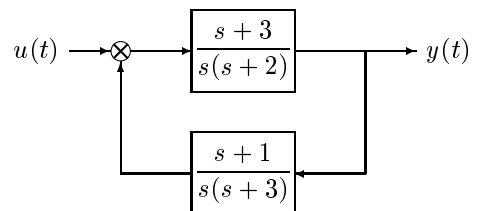
5. Il sistema discreto a segnali campionati che si ottiene dal sistema continuo (raggiungibile e osservabile) caratterizzato dalle seguenti matrici \mathbf{A} , \mathbf{B} e \mathbf{C} , quando si utilizza un periodo di campionamento $T = 2\pi$

$$\mathbf{A} = \begin{bmatrix} 0 & 1 \\ 1 & 0 \end{bmatrix} \quad \mathbf{B} = \begin{bmatrix} 1 \\ 0 \end{bmatrix} \\ \mathbf{C} = \begin{bmatrix} 1 & 0 \end{bmatrix}$$

- ☒ è un sistema raggiungibile;
- ☐ è un sistema non raggiungibile;
- ☒ è un sistema osservabile;
- ☐ è un sistema non osservabile;

6. Sia dato il sistema lineare continuo riportato a fianco:

- ☐ Il sistema è completamente raggiungibile;
- ☒ Il sistema non è completamente raggiungibile;
- ☐ Il sistema è completamente osservabile;
- ☒ Il sistema non è completamente osservabile,



7. Scrivere la forma finale a cui si giunge applicando ad un sistema dinamico lineare stazionario la scomposizione canonica di Kalman nel caso in cui la parte non raggiungibile e non osservabile sia assente (cioè abbia dimensione nulla):

$$\mathbf{A} = \begin{bmatrix} \mathbf{A}_{11} & 0 & \mathbf{A}_{13} \\ \mathbf{A}_{21} & \mathbf{A}_{22} & \mathbf{A}_{23} \\ 0 & 0 & \mathbf{A}_{33} \end{bmatrix} \quad \mathbf{B} = \begin{bmatrix} \mathbf{B}_1 \\ \mathbf{B}_2 \\ 0 \end{bmatrix}$$

$$\mathbf{C} = [\mathbf{C}_1 \quad 0 \quad \mathbf{C}_3]$$

8. Calcolare una realizzazione completamente raggiungibile della seguente matrice di trasferimento:

$$G(s) = \begin{bmatrix} \frac{s+1}{s(s+3)} \\ \frac{1}{s(s+2)} \end{bmatrix} = \begin{bmatrix} \frac{s^2+3s+2}{s^3+5s^2+6s} \\ \frac{s+3}{s(s+2)(s+3)} \end{bmatrix} \quad \mathbf{A} = \begin{bmatrix} 0 & 1 & 0 \\ 0 & 0 & 1 \\ 0 & -6 & -5 \end{bmatrix} \quad \mathbf{B} = \begin{bmatrix} 0 \\ 0 \\ 1 \end{bmatrix}$$

$$\mathbf{C} = \begin{bmatrix} 2 & 3 & 1 \\ 3 & 1 & 0 \end{bmatrix}$$

9. Per un sistema lineare, tempo discreto e stazionario di dimensione n :

- ☒ La completa raggiungibilità implica la controllabilità.
- ☐ La completa controllabilità implica la raggiungibilità.

10. Dato un sistema dinamico lineare a tempo continuo, stazionario, instabile, completamente osservabile, allora:

- ☒ Non è possibile costruire uno stimatore asintotico dello stato in catena aperta perchè l'errore di stima diverge.
- ☒ È possibile costruire uno stimatore asintotico dello stato in catena chiusa, con errore di stima convergente.
- ☐ Non è possibile costruire uno stimatore asintotico dello stato in catena chiusa.

11. Sia dato un sistema lineare stazionario a tempo discreto di dimensione n ,

$$\begin{aligned} \mathbf{x}(k+1) &= \mathbf{Ax}(k) + \mathbf{Bu}(k) \\ \mathbf{y}(k) &= \mathbf{Cx}(k) \end{aligned}$$

Scrivere le equazioni dello stimatore asintotico dello stato di ordine pieno in catena chiusa:

$$\hat{\mathbf{x}}(k+1) = (\mathbf{A} + \mathbf{LC})\hat{\mathbf{x}}(k) - \mathbf{Ly}(k) + \mathbf{Bu}(k)$$

12. Siano \mathcal{X}^+ e \mathcal{E}^- rispettivamente i sottospazi raggiungibile e non osservabile di un sistema lineare tempo-continuo:

- ☒ se $\mathbf{x}(0) \in \mathcal{X}^+$, $\mathbf{x}(t) \in \mathcal{X}^+$ per ogni $t \geq 0$ e per ogni funzione di ingresso
- ☐ se $\mathbf{x}(0) \in \mathcal{E}^-$, $\mathbf{x}(t) \in \mathcal{E}^-$ per ogni $t \geq 0$ e per ogni funzione di ingresso

13. Sia dato un sistema lineare stazionario a tempo discreto di dimensione n ,

$$\begin{aligned} \mathbf{x}(k+1) &= \mathbf{Ax}(k) + \mathbf{Bu}(k) \\ \mathbf{y}(k) &= \mathbf{Cx}(k) \end{aligned}$$

- ☒ Mediante la retroazione stato-ingresso è possibile allocare a piacimento gli autovalori della parte raggiungibile del sistema.
- ☒ La retroazione stato-ingresso non consente di modificare la dimensione del sottospazio di raggiungibilità.
- ☒ E' sempre possibile stabilizzare il sistema mediante retroazione stato-ingresso se gli autovalori del sottosistema relativo alla parte non-raggiungibile hanno modulo inferiore all'unità.

14. Scrivere una realizzazione completamente osservabile e completamente raggiungibile della seguente funzione di trasferimento:

$$G(s) = \frac{s+4}{(s+1)(s+4)(s+3)} \quad \rightarrow \quad \begin{cases} \mathbf{x}(t) = \begin{bmatrix} 0 & 1 \\ -3 & -4 \end{bmatrix} \mathbf{x}(t) + \begin{bmatrix} 0 \\ 1 \end{bmatrix} u(t) \\ y(t) = \begin{bmatrix} 1 & 0 \end{bmatrix} \mathbf{x}(t) \end{cases}$$

15. Nel caso di sistemi discreti, scrivere la condizione che deve essere soddisfatta affinché uno stato finale \mathbf{x}_f sia raggiungibile in k passi a partire dallo stato iniziale \mathbf{x}_0

$$\mathbf{x}_f - \mathbf{A}^k \mathbf{x}_0 \in \text{Im} \begin{bmatrix} \mathbf{B} & \mathbf{AB} & \dots & \mathbf{A}^{k-1} \mathbf{B} \end{bmatrix}$$

16. Enunciare il *Lemma di Heymann*:

Se (\mathbf{A}, \mathbf{B}) è raggiungibile e se \mathbf{b}_i è una colonna non nulla di \mathbf{B} , allora esiste una matrice $\mathbf{M}_i \in \mathcal{R}^{m \times n}$ tale che $(\mathbf{A} + \mathbf{BM}_i, \mathbf{b}_i)$ è raggiungibile.

17. Nella sintesi del regolatore, la proprietà di separazione

- ☐ afferma che mediante retroazione è sempre possibile stabilizzare un qualsiasi sistema dinamico lineare;
- ☒ afferma che la sintesi dell'osservatore può essere fatta indipendentemente dalla sintesi della retroazione statica;
- ☐ è valida solo nel caso di osservatore asintotico di ordine pieno;
- ☒ è valida anche nel caso di osservatore asintotico di ordine ridotto;

18. Sia \mathcal{S}_D il sistema duale del sistema discreto $\mathcal{S} = (\mathbf{A}, \mathbf{B}, \mathbf{C}, \mathbf{D})$:

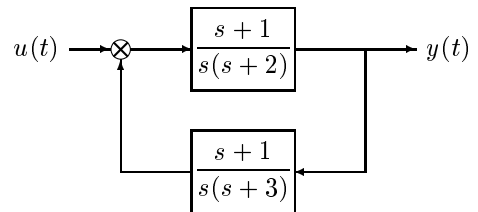
- ☒ Se \mathcal{S} è raggiungibile $\Rightarrow \mathcal{S}_D$ è ricostruibile;
- ☐ Se \mathcal{S} è controllabile $\Rightarrow \mathcal{S}_D$ è raggiungibile;
- ☐ Se \mathcal{S} è osservabile $\Rightarrow \mathcal{S}_D$ è ricostruibile;
- ☐ Se \mathcal{S} è ricostruibile $\Rightarrow \mathcal{S}_D$ è raggiungibile;

19. Sia dato un sistema lineare continuo completamente raggiungibile e osservabile avente due soli poli complessi coniugati in $p_{12} = -4 \pm j$. Indicare per quali valori del periodo di campionamento T il corrispondente sistema a segnali campionati è completamente raggiungibile:

$$T \neq k\pi \quad k = 1, 2, 3, \dots$$

20. Sia dato il sistema lineare continuo riportato a fianco:

- ☒ Il sistema è completamente osservabile;
- ☐ Il sistema non è completamente osservabile,
- ☒ Il sistema è completamente raggiungibile;
- ☐ Il sistema non è completamente raggiungibile;



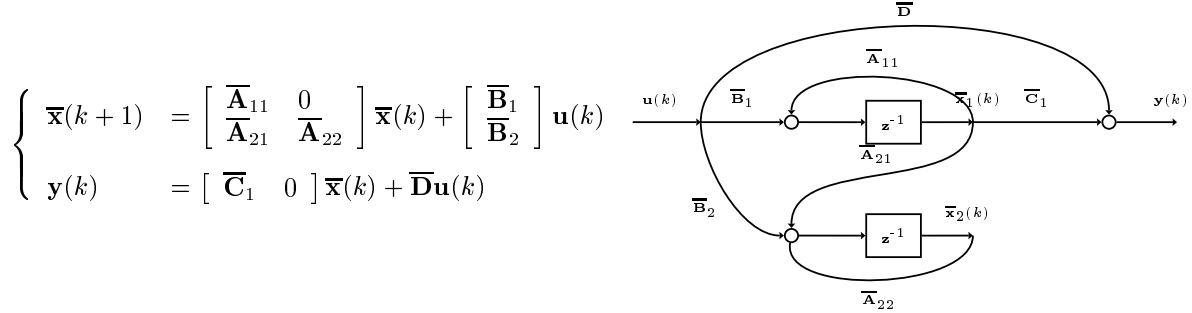
21. Scrivere, in funzione delle sottomatrici $\mathbf{A}_{i,j}$, \mathbf{B}_i e \mathbf{C}_j , la struttura della scomposizione canonica di Kalman nel caso di un sistema caratterizzato dal sottospazio raggiungibile \mathcal{X}^+ e dal sottospazio non osservabile \mathcal{E}^- riportati di seguito

$$\mathcal{X}^+ = \text{Im} \begin{bmatrix} 1 & 0 \\ 1 & 0 \\ 1 & 1 \end{bmatrix}, \quad \mathcal{E}^- = \text{Im} \begin{bmatrix} 0 \\ 0 \\ 1 \end{bmatrix} \quad \rightarrow \quad \begin{cases} \mathbf{A} = \begin{bmatrix} \mathbf{A}_{11} & 0 & \mathbf{A}_{13} \\ \mathbf{A}_{21} & \mathbf{A}_{22} & \mathbf{A}_{23} \\ 0 & 0 & \mathbf{A}_{33} \end{bmatrix} & \mathbf{B} = \begin{bmatrix} \mathbf{B}_1 \\ \mathbf{B}_2 \\ 0 \end{bmatrix} \\ \mathbf{C} = \begin{bmatrix} \mathbf{C}_1 & 0 & \mathbf{C}_3 \end{bmatrix} \end{cases}$$

29. Sia dato un sistema lineare SISO caratterizzato dalle matrici \mathbf{A} , \mathbf{b} e \mathbf{c} . Indicare la struttura delle matrici \mathbf{A}_C , \mathbf{b}_C e \mathbf{c}_C della corrispondente forma canonica di controllo. Sia $p(\lambda) = \lambda^n + \alpha_{n-1}\lambda^{n-1} + \dots + \alpha_1\lambda + \alpha_0$ il polinomio caratteristico della matrice \mathbf{A} .

$$\mathbf{A}_C = \begin{bmatrix} 0 & 1 & 0 & \dots & 0 \\ 0 & 0 & 1 & \dots & 0 \\ \vdots & \vdots & & \ddots & \vdots \\ -\alpha_0 & -\alpha_1 & \dots & -\alpha_{n-1} & 0 \end{bmatrix}, \quad \mathbf{b}_C = \begin{bmatrix} 0 \\ 0 \\ \vdots \\ 1 \end{bmatrix}, \quad \mathbf{c}_C = [\beta_0 \quad \beta_1 \quad \dots \quad \beta_{n-1}]$$

30. Disegnare lo schema a blocchi della forma standard di osservabilità di un sistema lineare tempo-discreto caratterizzato dalle matrici \mathbf{A} , \mathbf{B} , \mathbf{C} e \mathbf{D} :



31. Relativamente ad un sistema lineare continuo, riportare la struttura di uno stimatore asintotico dello stato di ordine ridotto.

$$\hat{\mathbf{x}}(t) = \mathbf{T} \begin{bmatrix} \hat{\mathbf{v}}(t) - \mathbf{L}\mathbf{y}(t) \\ \mathbf{y}(t) \end{bmatrix}$$

$$\dot{\hat{\mathbf{v}}}(t) = (\bar{\mathbf{A}}_{11} + \mathbf{L}\bar{\mathbf{A}}_{21})\hat{\mathbf{v}}(t) + (\bar{\mathbf{A}}_{12} + \mathbf{L}\bar{\mathbf{A}}_{22} - \bar{\mathbf{A}}_{11}\mathbf{L} - \mathbf{L}\bar{\mathbf{A}}_{21}\mathbf{L})\mathbf{y}(t) + (\bar{\mathbf{B}}_1 + \mathbf{L}\bar{\mathbf{B}}_2)\mathbf{u}(t)$$

32. Sia \mathcal{S}_D il sistema duale del sistema discreto $\mathcal{S} = (\mathbf{A}, \mathbf{B}, \mathbf{C}, \mathbf{D})$:

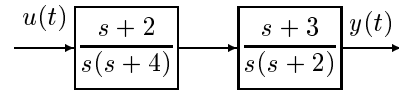
- ☒ Se \mathcal{S} è raggiungibile $\Rightarrow \mathcal{S}_D$ è osservabile;
- ☒ Se \mathcal{S} è osservabile $\Rightarrow \mathcal{S}_D$ è controllabile;
- ☐ Se \mathcal{S} è controllabile $\Rightarrow \mathcal{S}_D$ è osservabile;
- ☒ Se \mathcal{S} è ricostruibile $\Rightarrow \mathcal{S}_D$ è controllabile;

33. Scrivere la funzione di trasferimento $G(s)$ corrispondente al seguente sistema dinamico:

$$\begin{aligned} \mathbf{x}(t) &= \begin{bmatrix} 0 & 0 & 0 & -1 \\ 1 & 0 & 0 & -2 \\ 0 & 1 & 0 & -3 \\ 0 & 0 & 1 & -4 \end{bmatrix} \mathbf{x}(t) + \begin{bmatrix} 5 \\ 6 \\ 7 \\ 8 \end{bmatrix} u(t) \\ y(t) &= [0 \quad 0 \quad 0 \quad 1] \mathbf{x}(t) \end{aligned} \quad G(s) = \frac{8s^3 + 7s^2 + 6s + 5}{s^4 + 4s^3 + 3s^2 + 2s + 1}$$

34. Sia dato il sistema lineare continuo riportato a fianco:

- ☐ Il sistema è completamente raggiungibile;
- ☒ Il sistema non è completamente raggiungibile;
- ☒ Il sistema è completamente osservabile;
- ☐ Il sistema non è completamente osservabile.



35. Scrivere, in funzione delle sottomatrici $\mathbf{A}_{i,j}$, \mathbf{B}_i e \mathbf{C}_j , la struttura della scomposizione canonica di Kalman nel caso di un sistema caratterizzato dal sottospazio raggiungibile \mathcal{X}^+ e dal sottospazio non osservabile \mathcal{E}^- riportati di seguito

$$\mathcal{X}^+ = \text{Im} \begin{bmatrix} 1 & 0 \\ 1 & 1 \\ 1 & 1 \end{bmatrix}, \quad \mathcal{E}^- = \text{Im} \begin{bmatrix} 0 \\ 0 \\ 1 \end{bmatrix} \rightarrow \begin{cases} \mathbf{A} = \begin{bmatrix} \mathbf{A}_{11} & 0 \\ 0 & \mathbf{A}_{4,4} \end{bmatrix} & \mathbf{B} = \begin{bmatrix} \mathbf{B}_1 \\ 0 \end{bmatrix} \\ \mathbf{C} = [\mathbf{C}_1 \quad 0] \end{cases}$$

36. Scrivere la relazione necessaria e sufficiente che garantisce la completa controllabilità in k passi del sistema lineare discreto $\mathbf{x}(k+1) = \mathbf{A}\mathbf{x}(k) + \mathbf{B}\mathbf{u}(k)$:

$$\text{Im}\mathbf{A}^k \subseteq \text{Im}[\mathbf{B}, \mathbf{A}\mathbf{B}, \dots, \mathbf{A}^{k-1}\mathbf{B}] = \mathcal{X}^+(k)$$

37. Per un sistema lineare stazionario discreto $\mathbf{x}(k+1) = \mathbf{A}\mathbf{x}(k) + \mathbf{B}\mathbf{u}(k)$ avente matrice di sistema \mathbf{A} non singolare, è possibile affermare che:

- ☒ se il sistema è completamente controllabile è anche completamente raggiungibile;
- ☒ se il sistema è completamente raggiungibile è anche completamente controllabile;
- ☒ se il sistema è completamente osservabile è anche completamente ricostruibile;
- ☒ se il sistema è completamente ricostruibile è anche completamente osservabile;

38. Un sistema dinamico lineare stazionario è caratterizzato da matrici \mathbf{A} , \mathbf{B} e \mathbf{C} aventi la seguente struttura:

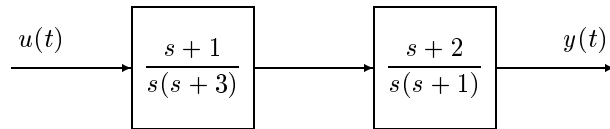
$$\mathbf{A} = \begin{bmatrix} \mathbf{A}_{11} & 0 \\ \mathbf{A}_{21} & \mathbf{A}_{22} \end{bmatrix} \quad \mathbf{B} = \begin{bmatrix} \mathbf{B}_1 \\ 0 \end{bmatrix} \\ \mathbf{C} = [\mathbf{C}_1 \quad 0]$$

- ☒ Il sistema è in forma standard di osservabilità
- ☐ Il sistema è in forma standard di raggiungibilità
- ☒ Il sistema non è completamente osservabile
- ☐ Il sistema non è completamente raggiungibile

39. Il sistema duale \mathcal{S}_D del sistema $\mathcal{S} = (\mathbf{A}, \mathbf{B}, \mathbf{C})$ è :

- ☐ $\mathcal{S}_D = (\mathbf{A}, \mathbf{B}^T, \mathbf{C}^T)$
- ☐ $\mathcal{S}_D = (\mathbf{A}^T, \mathbf{B}^T, \mathbf{C}^T)$
- ☐ $\mathcal{S}_D = (\mathbf{A}, \mathbf{C}^T, \mathbf{B}^T)$
- ☒ $\mathcal{S}_D = (\mathbf{A}^T, \mathbf{C}^T, \mathbf{B}^T)$

40. Sia dato il seguente sistema lineare continuo:



- ☐ Il sistema è completamente controllabile;
- ☒ Il sistema è completamente osservabile;
- ☒ Per tale sistema esiste un osservatore asintotico dello stato;

41. Sia dato un sistema (\mathbf{A}, \mathbf{b}) completamente raggiungibile. Il corrispondente sistema a dati campionati (essendo T il periodo di campionamento) è completamente raggiungibile se e solo se per ogni coppia λ_i, λ_j di autovalori distinti di \mathbf{A} aventi la stessa parte reale, vale la relazione:

$$\text{Im}(\lambda_i - \lambda_j) \neq \frac{2k\pi}{T} \quad k = \pm 1, \pm 2, \dots$$

42. Sia dato il seguente sistema lineare continuo

$$\begin{cases} \dot{\mathbf{x}}(t) = \mathbf{A}\mathbf{x}(t) + \mathbf{B}\mathbf{u}(t) \\ \mathbf{y}(t) = \mathbf{C}\mathbf{x}(t) \end{cases}$$

Scrivere le equazioni dello stimatore asintotico dello stato di ordine pieno:

$$\dot{\hat{\mathbf{x}}}(t) = [\mathbf{A} + \mathbf{L}\mathbf{C}]\hat{\mathbf{x}}(t) - \mathbf{L}\mathbf{y} + \mathbf{B}\mathbf{u}(t)$$

43. Sia \mathcal{S}_D il sistema duale del sistema discreto $\mathcal{S} = (\mathbf{A}, \mathbf{B}, \mathbf{C}, \mathbf{D})$:

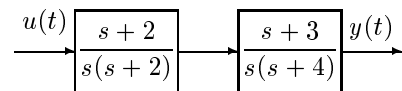
- ☐ Se \mathcal{S} è controllabile $\Rightarrow \mathcal{S}_D$ è osservabile;
- ☒ Se \mathcal{S} è ricostruibile $\Rightarrow \mathcal{S}_D$ è controllabile;
- ☒ Se \mathcal{S} è raggiungibile $\Rightarrow \mathcal{S}_D$ è osservabile;
- ☒ Se \mathcal{S} è osservabile $\Rightarrow \mathcal{S}_D$ è controllabile;

44. Sia dato un sistema lineare continuo completamente raggiungibile e osservabile avente quattro soli poli complessi coniugati in $p_{1,2} = -3 \pm j$ e $p_{3,4} = -3 \pm j2$. Indicare per quali valori del periodo di campionamento T il corrispondente sistema a segnali campionati è completamente raggiungibile:

$$T \neq \frac{2k\pi}{1}, \quad T \neq \frac{2k\pi}{2}, \quad T \neq \frac{2k\pi}{3}, \quad T \neq \frac{2k\pi}{4}, \quad k = 1, 2, \dots$$

45. Sia dato il sistema lineare continuo riportato a fianco:

- ☒ Il sistema può essere completamente raggiungibile;
- ☐ Il sistema non è completamente raggiungibile;
- ☒ Il sistema può essere completamente osservabile;
- ☐ Il sistema non è completamente osservabile.



46. Scrivere, in funzione delle sottomatrici $\mathbf{A}_{i,j}$, \mathbf{B}_i e \mathbf{C}_j , la struttura della scomposizione canonica di Kalman nel caso di un sistema caratterizzato dal sottospazio raggiungibile \mathcal{X}^+ e dal sottospazio non osservabile \mathcal{E}^- riportati di seguito

$$\mathcal{X}^+ = \text{Im} \begin{bmatrix} 0 \\ 1 \\ 1 \end{bmatrix}, \quad \mathcal{E}^- = \text{Im} \begin{bmatrix} 1 & 0 \\ 1 & 1 \\ 1 & 1 \end{bmatrix}, \quad \rightarrow \quad \begin{cases} \mathbf{A} = \begin{bmatrix} \mathbf{A}_{2,2} & \mathbf{A}_{2,3} & \mathbf{A}_{2,4} \\ 0 & \mathbf{A}_{3,3} & 0 \\ 0 & \mathbf{A}_{4,3} & \mathbf{A}_{4,4} \end{bmatrix} & \mathbf{B} = \begin{bmatrix} \mathbf{B}_2 \\ 0 \\ 0 \end{bmatrix} \\ \mathbf{C} = [0 \quad \mathbf{C}_3 \quad 0] \end{cases}$$

47. Il sottospazio di raggiungibilità \mathcal{X}^+ di un sistema lineare $\mathcal{S} = (\mathbf{A}, \mathbf{B}, \mathbf{C})$ caratterizzato dalle matrici \mathbf{A} , \mathbf{B} e \mathbf{C}

- ☐ è il più piccolo sottospazio invariante di \mathbf{A} contenuto nel $\ker \mathbf{C}$
- ☐ è il più grande sottospazio invariante di \mathbf{A} contenuto nel $\ker \mathbf{C}$
- ☒ è il più piccolo sottospazio invariante di \mathbf{A} contenente $\text{Im} \mathbf{B}$
- ☐ è il più grande sottospazio invariante di \mathbf{A} contenente $\text{Im} \mathbf{B}$

48. Sia (\mathbf{A}, \mathbf{b}) un sistema lineare ad un ingresso e sia $n > 1$ la dimensione dello spazio degli stati. Se il vettore \mathbf{b} coincide con uno degli autovettori della matrice \mathbf{A} , allora

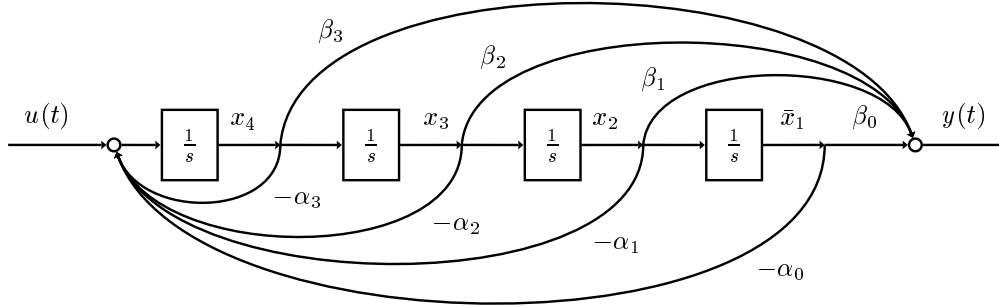
- ☒ il sistema non è completamente raggiungibile;
- ☐ il sistema può essere completamente raggiungibile;
- ☒ il sottospazio di raggiungibilità \mathcal{X}^+ ha dimensione unitaria.

49. Relativamente al sistema lineare discreto $\mathbf{x}(k+1) = \mathbf{A}\mathbf{x}(k) + \mathbf{B}\mathbf{u}(k)$, $\mathbf{y}(k) = \mathbf{C}\mathbf{x}(k)$, scrivere in termini delle matrici \mathbf{A} , \mathbf{B} e \mathbf{C} una condizione necessaria e sufficiente per garantire che i due stati \mathbf{x}_1 e \mathbf{x}_2 siano indistinguibili del futuro in k passi:

$$\mathbf{x}_1 - \mathbf{x}_2 \in \ker \begin{bmatrix} \mathbf{C} \\ \mathbf{CA} \\ \vdots \\ \mathbf{CA}^k \end{bmatrix} = \mathcal{E}^-(k)$$

50. Disegnare lo schema a blocchi di un sistema tempo-continuo caratterizzato dalle seguenti matrici \mathbf{A}_c , \mathbf{b}_c e \mathbf{c}_c in forma canonica di controllo.

$$\mathbf{A}_C = \begin{bmatrix} 0 & 1 & 0 & 0 \\ 0 & 0 & 1 & 0 \\ 0 & 0 & 0 & 1 \\ -\alpha_0 & -\alpha_1 & -\alpha_2 & -\alpha_3 \end{bmatrix}, \quad \mathbf{b}_C = \begin{bmatrix} 0 \\ 0 \\ 0 \\ 1 \end{bmatrix}, \quad \mathbf{C}_C = [\beta_0 \quad \beta_1 \quad \beta_2 \quad \beta_3]$$



51. Scrivere una realizzazione completamente controllabile e completamente osservabile della seguente funzione di trasferimento:

$$G(s) = \frac{1}{s} + \frac{2}{s+1} + \frac{3}{s+2} \quad \begin{aligned} \mathbf{x}(t) &= \begin{bmatrix} 0 & 0 & 0 \\ 0 & -1 & 0 \\ 0 & 0 & -2 \end{bmatrix} \mathbf{x}(t) + \begin{bmatrix} 1 \\ 2 \\ 3 \end{bmatrix} u(t) \\ y(t) &= [1 \quad 1 \quad 1] \mathbf{x}(t) \end{aligned}$$

52. Nella sintesi del regolatore, la proprietà di separazione

- ☐ è valida solo nel caso di osservatore asintotico di ordine pieno;
- ☒ è valida anche nel caso di osservatore asintotico di ordine ridotto;
- ☐ afferma che mediante retroazione è sempre possibile stabilizzare un qualsiasi sistema dinamico lineare;
- ☒ afferma che la sintesi dell'osservatore può essere fatta indipendentemente dalla sintesi della retroazione statica;

53. Sia dato il seguente sistema lineare continuo:

$$\begin{cases} \dot{\mathbf{x}}(t) = \mathbf{A}\mathbf{x}(t) + \mathbf{B}\mathbf{u}(t) \\ \mathbf{y}(t) = \mathbf{C}\mathbf{x}(t) \end{cases} \quad \rightarrow \quad \begin{cases} \mathbf{x}(k+1) = \mathbf{F}\mathbf{x}(k) + \mathbf{G}\mathbf{u}(k) \\ \mathbf{y}(k) = \mathbf{H}\mathbf{x}(k) \end{cases}$$

Scrivere, in funzione delle matrici \mathbf{A} , \mathbf{B} , \mathbf{C} e del periodo di campionamento T , l'espressione delle matrici \mathbf{F} , \mathbf{G} e \mathbf{H} che caratterizzano il corrispondente sistema a segnali campionati.

$$\mathbf{F} = e^{\mathbf{A}T}, \quad \mathbf{G} = \int_0^T e^{\mathbf{A}\sigma} \mathbf{B} d\sigma, \quad \mathbf{H} = \mathbf{C}$$

54. Scrivere in funzione delle sottomatrici $\mathbf{A}_{i,j}$, \mathbf{B}_i e \mathbf{C}_j l'espressione finale della matrice di trasferimento $\mathbf{H}(z)$ di una sistema discreto caratterizzato da matrici \mathbf{A} , \mathbf{B} e \mathbf{C} aventi la seguente struttura

$$\mathbf{A} = \begin{bmatrix} \mathbf{A}_{11} & 0 \\ \mathbf{A}_{12} & \mathbf{A}_{22} \end{bmatrix}, \quad \mathbf{B} = \begin{bmatrix} 0 \\ \mathbf{B}_2 \end{bmatrix}, \quad \mathbf{C} = [0 \quad \mathbf{C}_2]$$

$$\mathbf{H}(z) = \mathbf{C}[z\mathbf{I} - \mathbf{A}]^{-1}\mathbf{B} = [0 \quad \mathbf{C}_2] \begin{bmatrix} (z\mathbf{I} - \mathbf{A}_{11})^{-1} & 0 \\ (*) & (z\mathbf{I} - \mathbf{A}_{22})^{-1} \end{bmatrix} \begin{bmatrix} 0 \\ \mathbf{B}_2 \end{bmatrix} = \mathbf{C}_2(z\mathbf{I} - \mathbf{A}_{22})^{-1}\mathbf{B}_2$$

55. Sia dato un sistema tempo-discreto $S = (\mathbf{A}, \mathbf{B}, \mathbf{C}, \mathbf{D})$ con m ingressi e p uscite. Il corrispondente sistema duale ha la seguente struttura:

$$S_D = (\mathbf{A}^T, \mathbf{C}^T, \mathbf{B}^T, \mathbf{D}^T,) \quad \text{avente } p \text{ ingressi e } m \text{ uscite}$$

Indicare inoltre quali delle seguenti affermazioni sono vere:

- ☒ S osservabile $\Rightarrow S_D$ controllabile;
 - ☐ S controllabile $\Rightarrow S_D$ osservabile;
 - ☐ S ricostruibile $\Rightarrow S_D$ osservabile;
 - ☒ S raggiungibile $\Rightarrow S_D$ ricostruibile;
56. Data la seguente “matrice” di trasferimento $\mathbf{H}(s)$ di un sistema del quarto ordine tempo continuo con un solo ingresso ($m=1$) ed una sola uscita ($p=1$) completamente raggiungibile

$$\mathbf{H}(s) = \frac{(s+2)(s+4)}{(s^2+2)^2} = \frac{s^2+6s+8}{s^4+4s^2+4}$$

scrivere la corrispondente forma canonica di controllo $(\mathbf{A}_c, \mathbf{b}_c, \mathbf{c}_c)$.

$$\mathbf{A}_c = \begin{bmatrix} 0 & 1 & 0 & 0 \\ 0 & 0 & 1 & 0 \\ 0 & 0 & 0 & 1 \\ -4 & 0 & -4 & 0 \end{bmatrix}, \quad \mathbf{b}_c = \begin{bmatrix} 0 \\ 0 \\ 0 \\ 1 \end{bmatrix}, \quad \mathbf{c}_c = [8 \quad 6 \quad 1 \quad 0]$$

Una retroazione dello stato applicata al sistema $(\mathbf{A}_c, \mathbf{b}_c, \mathbf{c}_c)$:

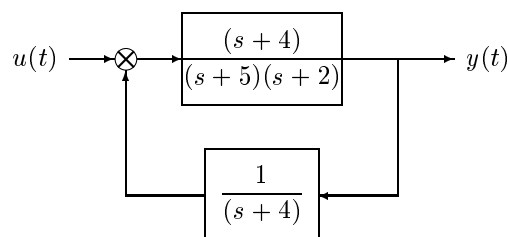
- ☒ modifica solo i poli del sistema retroazionato;
 - ☐ modifica solo gli zeri del sistema retroazionato;
 - ☐ modifica sia i poli che gli zeri del sistema retroazionato;
57. Dire come si costruisce la matrice di trasformazione \mathbf{P} che permette di portare un sistema $(\mathbf{A}, \mathbf{B}, \mathbf{C})$ in forma canonica di osservabilità $(\mathbf{A}_o, \mathbf{B}_o, \mathbf{C}_o)$. Indicare inoltre la struttura delle matrici \mathbf{A}_o , \mathbf{B}_o e \mathbf{C}_o :

$$\mathbf{A}_o = \begin{bmatrix} 0 & 0 & \dots & 0 & -\alpha_0 \\ 1 & 0 & \dots & 0 & -\alpha_1 \\ \vdots & \vdots & & \vdots & \vdots \\ 0 & 0 & \dots & 1 & -\alpha_{n-1} \end{bmatrix} \quad \mathbf{B}_o = \begin{bmatrix} \beta_0 \\ \beta_1 \\ \vdots \\ \beta_{n-1} \end{bmatrix}$$

$$\mathbf{C}_o = [0 \quad 0 \quad \dots \quad 0 \quad 1] \quad \mathbf{P} = [(\mathcal{O}_c^-)^{-1} \mathcal{O}^-]^{-1}$$

58. Sia dato il sistema lineare continuo riportato a fianco:

- ☐ Il sistema è completamente raggiungibile;
- ☒ Il sistema non è completamente raggiungibile;
- ☐ Il sistema è completamente osservabile;
- ☒ Il sistema non è completamente osservabile,



59. In un sistema lineare discreto tempo-invariante, due stati \mathbf{x}_1 e \mathbf{x}_2 sono indistinguibili nel futuro se per ogni successione di ingresso $\mathbf{u}(\cdot)$

- ☒ le corrispondenti successioni di uscita $\mathbf{y}_1(\tau)$ e $\mathbf{y}_2(\tau)$ coincidono per $\tau \geq 0$;
- ☒ le corrispondenti evoluzioni libere $\mathbf{y}_{l,1}(\tau)$ e $\mathbf{y}_{l,2}(\tau)$ coincidono per $\tau \geq 0$;
- ☐ se i vettori \mathbf{x}_1 ed \mathbf{x}_2 appartengono al sottospazio \mathcal{E}^- ;
- ☒ se il vettore $\mathbf{x}_1 - \mathbf{x}_2$ appartiene al sottospazio \mathcal{E}^- ;

60. Sia $\mathcal{S} = (\mathbf{A}, \mathbf{B}, \mathbf{C})$ un sistema lineare caratterizzato dalle matrici \mathbf{A} , \mathbf{B} e \mathbf{C} e sia $\mathcal{S}_c = (\mathbf{A}_c, \mathbf{B}_c, \mathbf{C}_c)$ il corrispondente sistema in forma canonica (di raggiungibilità o di osservabilità). Scrivere, in funzione delle matrici di raggiungibilità e di osservabilità dei due sistemi, le matrici \mathbf{T} e \mathbf{P} che portano il sistema \mathcal{S} nella corrispondente forma canonica

$$\mathbf{T} = \mathcal{R}^+(\mathcal{R}_c^+)^{-1}, \quad \mathbf{P} = [(\mathcal{O}_c^-)^{-1} \mathcal{O}^-]^{-1}$$

61. Sia \mathcal{S}_D il sistema duale del sistema continuo $\mathcal{S} = (\mathbf{A}, \mathbf{B}, \mathbf{C}, \mathbf{D})$:

- ☒ Se \mathcal{S} è controllabile $\Rightarrow \mathcal{S}_D$ è osservabile;
- ☐ Se \mathcal{S} è ricostruibile $\Rightarrow \mathcal{S}_D$ è osservabile;
- ☒ Se \mathcal{S} è osservabile $\Rightarrow \mathcal{S}_D$ è controllabile;
- ☒ Se \mathcal{S} è raggiungibile $\Rightarrow \mathcal{S}_D$ è ricostruibile;

62. Il sistema discreto a segnali campionati che si ottiene dal sistema continuo caratterizzato dalle seguenti matrici \mathbf{A} , \mathbf{B} e \mathbf{C} , quando si utilizza un periodo di campionamento $T = 2\pi$

$$\mathbf{A} = \begin{bmatrix} 1 & 0 \\ 0 & 1 \end{bmatrix} \quad \mathbf{B} = \begin{bmatrix} 1 \\ 1 \end{bmatrix} \\ \mathbf{C} = \begin{bmatrix} 1 & 1 \end{bmatrix}$$

- ☒ è un sistema non raggiungibile;
- ☒ è un sistema non osservabile;

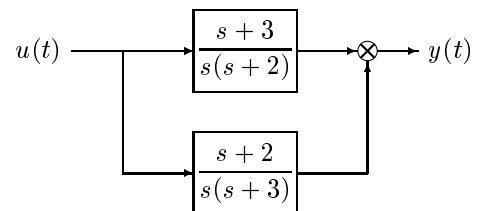
63. Enunciare la *Proprietà di separazione*:

La sintesi del blocco di retroazione $(\mathbf{A} + \mathbf{BK})$ e del blocco di stima $(\mathbf{A} + \mathbf{LC})$ può essere fatta in modo indipendente

$$\det[z\mathbf{I} - \bar{\mathbf{A}}] = \det[z\mathbf{I} - (\mathbf{A} + \mathbf{BK})] \det[z\mathbf{I} - (\mathbf{A} + \mathbf{LC})]$$

64. Sia dato il sistema lineare continuo riportato a fianco:

- ☒ Il sistema non è completamente raggiungibile;
- ☐ Il sistema è completamente raggiungibile;
- ☒ Il sistema non è completamente osservabile;
- ☐ Il sistema è completamente osservabile.



65. Siano \mathcal{E}^- e $\mathcal{E}_{\mathbf{L}}^-$ i sottospazi di non osservabilità associati alle coppie di matrici (\mathbf{A}, \mathbf{C}) e $(\mathbf{A} + \mathbf{LC}, \mathbf{C})$. Il legame esistente tra questi sottospazi è il seguente

- ☐ $\mathcal{E}^- \subset \mathcal{E}_{\mathbf{L}}^-$
- ☐ $\mathcal{E}_{\mathbf{L}}^- \subset \mathcal{E}^-$
- ☒ $\mathcal{E}^- = \mathcal{E}_{\mathbf{L}}^-$
- ☐ nessuna delle precedenti

66. Il sistema discreto a segnali campionati che si ottiene dal sistema continuo (raggiungibile e osservabile) caratterizzato dalle seguenti matrici \mathbf{A} , \mathbf{B} e \mathbf{C} , quando si utilizza un periodo di campionamento $T = 2\pi$

$$\mathbf{A} = \begin{bmatrix} 0 & -1 \\ 1 & 0 \end{bmatrix} \quad \mathbf{B} = \begin{bmatrix} 1 \\ 0 \end{bmatrix} \\ \mathbf{C} = \begin{bmatrix} 1 & 0 \end{bmatrix}$$

- ☐ è un sistema raggiungibile;
- ☒ è un sistema non raggiungibile;
- ☐ è un sistema osservabile;

\otimes è un sistema non osservabile;

67. Relativamente ad un sistema lineare stazionario discreto $\mathbf{x}(k+1) = \mathbf{A}\mathbf{x}(k) + \mathbf{B}\mathbf{u}(k)$ che ha almeno un autovalore nell'origine, è possibile affermare che:

- ☐ se il sistema è completamente controllabile allora è anche completamente raggiungibile;
- ☒ se il sistema è completamente raggiungibile allora è anche completamente controllabile;
- ☒ se il sistema è completamente osservabile allora è anche completamente ricostruibile;
- ☐ se il sistema è completamente ricostruibile allora è anche completamente osservabile;

68. Un sistema dinamico discreto lineare stazionario è caratterizzato da matrici \mathbf{A} , \mathbf{B} e \mathbf{C} aventi la seguente struttura:

$$\mathbf{A} = \begin{bmatrix} \mathbf{A}_{11} & 0 \\ 0 & \mathbf{A}_{22} \end{bmatrix} \quad \mathbf{B} = \begin{bmatrix} \mathbf{B}_1 \\ \mathbf{B}_2 \end{bmatrix}$$

$$\mathbf{C} = [\mathbf{C}_1 \quad 0]$$

- ☐ Il sistema non è completamente raggiungibile;
- ☒ Il sistema non è completamente osservabile;
- ☒ Il sistema può essere raggiungibile;

69. Scrivere la forma finale a cui si giunge applicando ad un sistema dinamico lineare stazionario la scomposizione canonica di Kalman nella forma più generale

$$\mathbf{A} = \begin{bmatrix} \mathbf{A}_{1,1} & 0 & \mathbf{A}_{1,3} & 0 \\ \mathbf{A}_{2,1} & \mathbf{A}_{2,2} & \mathbf{A}_{2,3} & \mathbf{A}_{2,4} \\ 0 & 0 & \mathbf{A}_{3,3} & 0 \\ 0 & 0 & \mathbf{A}_{4,3} & \mathbf{A}_{4,4} \end{bmatrix} \quad \mathbf{B} = \begin{bmatrix} \mathbf{B}_1 \\ \mathbf{B}_2 \\ 0 \\ 0 \end{bmatrix}$$

$$\mathbf{C} = [\mathbf{C}_1 \quad 0 \quad \mathbf{C}_3 \quad 0]$$

70. Nel caso di sistemi discreti lineari invarianti, i sottospazi $\mathcal{X}^+(k)$ raggiungibili in k passi soddisfano le seguenti relazioni:

- ☐ $\mathcal{X}^+(1) \subset \mathcal{X}^+(2) \subset \dots \subset \mathcal{X}^+(k) \subset \dots$
- ☒ $\mathcal{X}^+(1) \subseteq \mathcal{X}^+(2) \subseteq \dots \subseteq \mathcal{X}^+(k) \subseteq \dots$
- ☐ $\mathcal{X}^+(1) \supset \mathcal{X}^+(2) \supset \dots \supset \mathcal{X}^+(k) \supset \dots$
- ☐ $\mathcal{X}^+(1) \supseteq \mathcal{X}^+(2) \supseteq \dots \supseteq \mathcal{X}^+(k) \supseteq \dots$

71. Siano $\mathcal{S}_1 = (\mathbf{A}_1, \mathbf{B}_1, \mathbf{C}_1)$ e $\mathcal{S}_2 = (\mathbf{A}_2, \mathbf{B}_2, \mathbf{C}_2)$ due sistemi algebricamente equivalenti tali che $\mathbf{x}_1 = \mathbf{T}\mathbf{x}_2$. Tra le corrispondenti matrici di raggiungibilità \mathcal{R}_1^+ ed \mathcal{R}_2^+ esiste il legame:

- ☒ $\mathcal{R}_1^+ = \mathbf{T}\mathcal{R}_2^+$
- ☐ $\mathcal{R}_1^+ = \mathbf{T}^{-1}\mathcal{R}_2^+$
- ☐ $\mathcal{R}_1^+ = \mathcal{R}_2^+\mathbf{T}$
- ☐ $\mathcal{R}_1^+ = \mathcal{R}_2^+\mathbf{T}^{-1}$

72. Siano $\mathcal{S}_1 = (\mathbf{A}_1, \mathbf{B}_1, \mathbf{C}_1)$ e $\mathcal{S}_2 = (\mathbf{A}_2, \mathbf{B}_2, \mathbf{C}_2)$ due sistemi algebricamente equivalenti tali che $\mathbf{x}_1 = \mathbf{T}\mathbf{x}_2$. Tra le corrispondenti matrici di osservabilità \mathcal{O}_1^- ed \mathcal{O}_2^- esiste il legame:

- ☐ $\mathcal{O}_1^- = \mathbf{T}\mathcal{O}_2^-$
- ☐ $\mathcal{O}_1^- = \mathbf{T}^{-1}\mathcal{O}_2^-$
- ☐ $\mathcal{O}_1^- = \mathcal{O}_2^-\mathbf{T}$
- ☒ $\mathcal{O}_1^- = \mathcal{O}_2^-\mathbf{T}^{-1}$

73. Nel caso di sistemi lineari invarianti $(\mathbf{A}, \mathbf{B}, \mathbf{C})$, la controllabilità implica la raggiungibilità:

- ☐ sempre;
- ☒ se il sistema è tempo continuo;

- ☐ se il sistema è tempo discreto;
☒ se la matrice \mathbf{A} è non singolare;
74. Nel caso di sistemi discreti lineari invarianti $\mathbf{x}(k+1) = \mathbf{A}\mathbf{x}(k) + \mathbf{B}u(k)$, la successione di ingresso $\mathbf{u}(0), \dots, \mathbf{u}(\bar{k}-1)$ che consente di far passare il sistema dallo stato iniziale $\mathbf{x}(0)$ allo stato finale $\mathbf{x}(\bar{k})$:
- ☒ esiste se il sistema è raggiungibile;
☐ esiste se $\mathbf{x}(\bar{k}) \in \mathcal{X}^+(\bar{k})$;
☐ esiste se $\mathbf{x}(\bar{k}) - e^{\mathbf{A}\bar{k}}\mathbf{x}(0) \in \mathcal{X}^+(\bar{k})$;
☒ esiste se $\mathbf{x}(\bar{k}) - \mathbf{A}^{\bar{k}}\mathbf{x}(0) \in \mathcal{X}^+(\bar{k})$;
☐ se esiste è unica;
75. Nel caso di sistemi continui lineari invarianti $\dot{\mathbf{x}}(t) = \mathbf{A}\mathbf{x}(t) + \mathbf{B}u(t)$, la funzione di ingresso $\mathbf{u}(t)$, per $t \in [0, \bar{t}]$, che consente di far passare il sistema dallo stato iniziale $\mathbf{x}(0)$ allo stato finale $\mathbf{x}(\bar{t})$:
- ☒ esiste se il sistema è raggiungibile;
☐ esiste se $\mathbf{x}(\bar{t}) \in \mathcal{X}^+$;
☒ esiste se $\mathbf{x}(\bar{t}) - e^{\mathbf{A}\bar{t}}\mathbf{x}(0) \in \mathcal{X}^+$;
☐ esiste se $\mathbf{x}(\bar{t}) - \mathbf{A}^{\bar{t}}\mathbf{x}(0) \in \mathcal{X}^+$;
☐ se esiste è unica;
76. Nel caso di sistemi continui lineari invarianti $\dot{\mathbf{x}}(t) = \mathbf{A}\mathbf{x}(t) + \mathbf{B}u(t)$, l'insieme $\mathcal{X}^+(t)$ degli stati raggiungibili dall'origine nell'intervallo di tempo $[0, t]$:
- ☒ è un sottospazio;
☒ è indipendente dal tempo t ;
☒ è uno spazio invariante di \mathbf{A} ;
77. La matrice di trasferimento $\mathbf{H}(z)$ di un sistema discreto:
- ☒ è funzione della sola parte raggiungibile del sistema;
☒ è funzione della sola parte osservabile del sistema;
☐ è funzione delle condizioni iniziali del sistema;
78. Il seguente sistema lineare continuo $\dot{\mathbf{x}}(t) = \mathbf{A}\mathbf{x}(t) + \mathbf{B}u(t)$ posto in forma canonica di Jordan:
- $$\mathbf{A} = \left[\begin{array}{ccc|ccc} \lambda_1 & 1 & 0 & 0 & 0 & 0 \\ 0 & \lambda_1 & 1 & 0 & 0 & 0 \\ 0 & 0 & \lambda_1 & 0 & 0 & 0 \\ \hline 0 & 0 & 0 & \lambda_1 & 1 & 0 \\ 0 & 0 & 0 & 0 & \lambda_1 & 0 \\ \hline 0 & 0 & 0 & 0 & 0 & \lambda_1 \end{array} \right] \quad \mathbf{B} = \left[\begin{array}{ccc} 0 & 0 & 0 \\ 0 & 0 & 0 \\ 1 & 2 & 3 \\ \hline 0 & 0 & 0 \\ 4 & 5 & 6 \\ \hline 1 & 2 & 3 \end{array} \right]$$
- ☐ è raggiungibile;
☒ non è raggiungibile;
☐ è controllabile;
☒ non è controllabile;
79. Mediante retroazione statica dello stato $\mathbf{u} = \mathbf{K}\mathbf{x}$ è possibile posizionare a piacere:
- ☐ tutti gli autovalori del sistema;
☒ tutti gli autovalori della parte raggiungibile del sistema;
☐ tutti gli autovalori della parte osservabile del sistema;
80. Mediante retroazione statica dell'uscita $\mathbf{u} = \bar{\mathbf{K}}\mathbf{y}$, è possibile :
- ☐ posizionare a piacere tutti gli autovalori della parte raggiungibile del sistema;
☐ posizionare a piacere tutti gli autovalori della parte osservabile del sistema;

- ☒ modificare la posizione di alcuni autovalori della parte raggiungibile del sistema;
 - ☐ modificare la posizione di alcuni autovalori della parte osservabile del sistema;
81. Il "PBH test" afferma che "il sistema $(\mathbf{A}, \mathbf{B}, \mathbf{C})$ è raggiungibile se e solo se"
- ☒ la matrice $\begin{bmatrix} s\mathbf{I} - \mathbf{A} & \mathbf{B} \end{bmatrix}$ ha rango pieno per ogni $s \in \mathcal{C}$.
 - ☐ la matrice $\begin{bmatrix} s\mathbf{I} - \mathbf{A}^k & \mathbf{B} \end{bmatrix}$ ha rango pieno per ogni $k \in \mathcal{Z}$.
 - ☐ la matrice $\begin{bmatrix} s\mathbf{I} - e^{\mathbf{A}t} & \mathbf{B} \end{bmatrix}$ ha rango pieno per ogni $t \in \mathcal{R}$.
82. Un sistema $(\mathbf{A}, \mathbf{B}, \mathbf{C})$ può essere portato in forma canonica di controllo
- ☐ sempre;
 - ☒ se e solo se è raggiungibile;
 - ☐ se e solo se è controllabile;
 - ☐ solo se la matrice \mathbf{A} è non singolare;
83. La formula di Ackerman per il calcolo del vettore \mathbf{k}^T che permette il posizionamento arbitrario degli autovalori del sistema retroazionato può essere utilizzata
- ☐ per qualunque sistema;
 - ☒ solo se il sistema è raggiungibile;
 - ☒ solo per sistemi ad un solo ingresso;
84. Una retroazione algebrica dello stato
- ☒ modifica i poli del sistema di partenza;
 - ☐ modifica gli zeri del sistema di partenza;
 - ☐ modifica il sottospazio raggiungibile \mathcal{X}^+ del sistema di partenza;
85. Un sistema $(\mathbf{A}, \mathbf{B}, \mathbf{C})$ è "stabilizzabile" mediante retroazione statica dello stato
- ☒ se il sistema è stabile;
 - ☒ se il sistema è raggiungibile;
 - ☒ se la parte instabile del sistema è raggiungibile;
 - ☒ se la parte non raggiungibile del sistema è stabile;
86. Uno stimatore asintotico dello stato "in catena aperta" di ordine pieno può essere utilizzato
- ☒ solo se il sistema è stabile;
 - ☐ solo se il sistema è osservabile;
 - ☐ solo se la parte non osservabile del sistema è stabile;
 - ☐ solo se la parte instabile del sistema è osservabile;
87. Uno stimatore asintotico dello stato "in catena chiusa" di ordine pieno può essere utilizzato
- ☐ solo se il sistema è stabile;
 - ☐ solo se il sistema è osservabile;
 - ☒ solo se la parte non osservabile del sistema è stabile;
 - ☒ solo se la parte instabile del sistema è osservabile;
88. Per poter utilizzare uno stimatore asintotico dello stato "in catena chiusa" e di ordine "ridotto"
- ☐ il sistema deve essere stabile;
 - ☐ il sistema deve essere osservabile;
 - ☒ la parte non osservabile del sistema deve essere stabile;
89. Il sistema che si ottiene quando si utilizza un regolatore (cioè la serie di uno stimatore asintotico dello stato e dell'elemento statico di retroazione K) per stabilizzare in retroazione un sistema dinamico assegnato

- ☐ è un sistema raggiungibile ed osservabile;
- ☒ è un sistema non raggiungibile;
- ☐ è un sistema non osservabile;

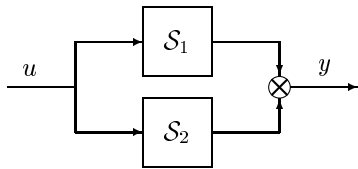
90. Due realizzazioni diverse della stessa matrice di trasferimento $\mathbf{G}(s)$

- ☐ hanno sempre la stessa dimensione;
- ☒ possono avere dimensioni diverse;
- ☐ hanno lo stesso sottospazio raggiungibile \mathcal{X}^+ ;

91. Una qualunque realizzazione “minima” di una matrice di trasferimento $\mathbf{G}(s)$

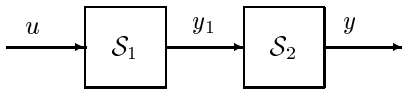
- ☒ è raggiungibile;
- ☒ è osservabile;
- ☐ è stabile;
- ☒ è algebricamente equivalente a qualunque altra realizzazione minima;

92. Scrivere le equazioni di stato del sistema \mathcal{S} che si ottiene ponendo in *parallelo* i due sottosistemi $\mathcal{S}_1 = (\mathbf{A}_1, \mathbf{B}_1, \mathbf{C}_1)$ e $\mathcal{S}_2 = (\mathbf{A}_2, \mathbf{B}_2, \mathbf{C}_2)$:



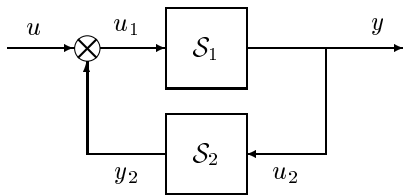
$$\begin{cases} \dot{\mathbf{x}}(t) &= \begin{bmatrix} \mathbf{A}_1 & 0 \\ 0 & \mathbf{A}_2 \end{bmatrix} \mathbf{x}(t) + \begin{bmatrix} \mathbf{B}_1 \\ \mathbf{B}_2 \end{bmatrix} u(t) \\ y(t) &= \begin{bmatrix} \mathbf{C}_1 & \mathbf{C}_2 \end{bmatrix} \mathbf{x}(t) \end{cases}$$

93. Scrivere le equazioni di stato del sistema \mathcal{S} che si ottiene ponendo in *serie* i due sottosistemi $\mathcal{S}_1 = (\mathbf{A}_1, \mathbf{B}_1, \mathbf{C}_1)$ e $\mathcal{S}_2 = (\mathbf{A}_2, \mathbf{B}_2, \mathbf{C}_2)$:



$$\begin{cases} \dot{\mathbf{x}}(t) &= \begin{bmatrix} \mathbf{A}_1 & 0 \\ \mathbf{B}_1 \mathbf{C}_1 & \mathbf{A}_2 \end{bmatrix} \mathbf{x}(t) + \begin{bmatrix} \mathbf{B}_1 \\ 0 \end{bmatrix} u(t) \\ y(t) &= \begin{bmatrix} 0 & \mathbf{C}_2 \end{bmatrix} \mathbf{x}(t) \end{cases}$$

94. Scrivere le equazioni di stato del sistema \mathcal{S} che si ottiene ponendo in *retroazione* i due sottosistemi $\mathcal{S}_1 = (\mathbf{A}_1, \mathbf{B}_1, \mathbf{C}_1)$ e $\mathcal{S}_2 = (\mathbf{A}_2, \mathbf{B}_2, \mathbf{C}_2)$:



$$\begin{cases} \dot{\mathbf{x}}(t) &= \begin{bmatrix} \mathbf{A}_1 & \mathbf{B}_1 \mathbf{C}_2 \\ \mathbf{B}_2 \mathbf{C}_1 & \mathbf{A}_2 \end{bmatrix} \mathbf{x}(t) + \begin{bmatrix} \mathbf{B}_1 \\ 0 \end{bmatrix} u(t) \\ y(t) &= \begin{bmatrix} \mathbf{C}_1 & 0 \end{bmatrix} \mathbf{x}(t) \end{cases}$$

95. Il sottospazio non osservabile \mathcal{E}^- di un sistema lineare $\mathcal{S} = (\mathbf{A}, \mathbf{B}, \mathbf{C})$ caratterizzato dalle matrici \mathbf{A} , \mathbf{B} e \mathbf{C}

- ☐ è il più piccolo sottospazio invariante di \mathbf{A} contenente il $\ker \mathbf{C}$;
- ☐ è il più piccolo sottospazio invariante di \mathbf{A} contenuto nel $\ker \mathbf{C}$;
- ☐ è il più grande sottospazio invariante di \mathbf{A} contenente il $\ker \mathbf{C}$;
- ☒ è il più grande sottospazio invariante di \mathbf{A} contenuto nel $\ker \mathbf{C}$;

96. Scrivere, in funzione delle sottomatrici $\mathbf{A}_{i,j}$, \mathbf{B}_i e \mathbf{C}_j , la struttura della scomposizione canonica di Kalman nel caso di un sistema caratterizzato dal sottospazio raggiungibile \mathcal{X}^+ e dal sottospazio non osservabile \mathcal{E}^- riportati di seguito

$$\mathcal{X}^+ = \text{Im} \begin{bmatrix} 1 & 0 \\ 1 & 0 \\ 1 & 1 \end{bmatrix}, \quad \mathcal{E}^- = \text{Im} \begin{bmatrix} 0 & 1 \\ 0 & 0 \\ 1 & 0 \end{bmatrix} \rightarrow \begin{cases} \mathbf{A} = \begin{bmatrix} \mathbf{A}_{11} & 0 & 0 \\ \mathbf{A}_{21} & \mathbf{A}_{22} & \mathbf{A}_{24} \\ 0 & 0 & \mathbf{A}_{44} \end{bmatrix} & \mathbf{B} = \begin{bmatrix} \mathbf{B}_1 \\ \mathbf{B}_2 \\ 0 \end{bmatrix} \\ \mathbf{C} = [\mathbf{C}_1 & 0 & 0] \end{cases}$$

97. In un sistema lineare discreto tempo-invariante, uno stato \mathbf{x}_1 è indistinguibile nel futuro dallo stato nullo $\mathbf{x}_2 = \mathbf{0}$ se per ogni successione di ingresso $\mathbf{u}(\cdot)$

- ☐ la corrispondente successione di uscita $\mathbf{y}_1(\tau)$ è identicamente nulla: $\mathbf{y}_1(\tau) = 0$ per $\tau \geq 0$;
- ☒ la corrispondente evoluzione libera $\mathbf{y}_{l,1}(\tau)$ è identicamente nulla: $\mathbf{y}_{l,1}(\tau) = 0$ per $\tau \geq 0$;
- ☒ se il vettore \mathbf{x}_1 appartiene al sottospazio \mathcal{E}^- ;

98. Un sistema dinamico discreto lineare stazionario è caratterizzato da matrici \mathbf{A} , \mathbf{B} e \mathbf{C} aventi la seguente struttura:

- ☐ Il sistema è raggiungibile;
- ☒ Il sistema non è raggiungibile;
- ☐ Il sistema è osservabile;
- ☐ Il sistema non è osservabile;

$$\mathbf{A} = \begin{bmatrix} \mathbf{A}_{11} & 0 \\ 0 & \mathbf{A}_{22} \end{bmatrix} \quad \mathbf{B} = \begin{bmatrix} \mathbf{B}_1 \\ 0 \end{bmatrix} \\ \mathbf{C} = [\mathbf{C}_1 \quad \mathbf{C}_2]$$

99. Siano $\mathcal{S}_1 = (\mathbf{A}_1, \mathbf{B}_1, \mathbf{C}_1)$ e $\mathcal{S}_2 = (\mathbf{A}_2, \mathbf{B}_2, \mathbf{C}_2)$ due sistemi algebricamente equivalenti tali che $\mathbf{x}_1 = \mathbf{T}\mathbf{x}_2$. Tra le corrispondenti matrici di osservabilità \mathcal{O}_1^- ed \mathcal{O}_2^- esiste il legame:

- ☐ $\mathcal{O}_2^- = \mathbf{T}\mathcal{O}_1^-$
- ☐ $\mathcal{O}_2^- = \mathbf{T}^{-1}\mathcal{O}_1^-$
- ☒ $\mathcal{O}_2^- = \mathcal{O}_1^- \mathbf{T}$
- ☐ $\mathcal{O}_2^- = \mathcal{O}_1^- \mathbf{T}^{-1}$

100. Un sistema lineare $(\mathbf{A}, \mathbf{B}, \mathbf{C})$ può essere scomposto nella forma canonica di Kalman

- ☒ sempre;
- ☐ solo se il sistema è raggiungibile;
- ☐ solo se il sistema è controllabile;
- ☐ solo se la matrice \mathbf{A} è non singolare;

101. Il seguente sistema lineare continuo $\dot{\mathbf{x}}(t) = \mathbf{A}\mathbf{x}(t) + \mathbf{B}\mathbf{u}(t)$ posto in forma canonica di Jordan:

- ☒ è raggiungibile;
- ☐ non è raggiungibile;
- ☒ è controllabile;
- ☐ non è controllabile;

$$\mathbf{A} = \left[\begin{array}{ccc|cc|c} \lambda_1 & 1 & 0 & 0 & 0 & 0 \\ 0 & \lambda_1 & 1 & 0 & 0 & 0 \\ 0 & 0 & \lambda_1 & 0 & 0 & 0 \\ \hline 0 & 0 & 0 & \lambda_2 & 1 & 0 \\ 0 & 0 & 0 & 0 & \lambda_2 & 0 \\ \hline 0 & 0 & 0 & 0 & 0 & \lambda_2 \end{array} \right] \quad \mathbf{B} = \left[\begin{array}{cc} 0 & 0 \\ 0 & 0 \\ 1 & 2 \\ \hline 0 & 0 \\ 4 & 5 \\ \hline 1 & 2 \end{array} \right]$$

102. La formula $\mathbf{k}^T = \mathbf{k}_c^T [\mathcal{R}^+(\mathcal{R}_c^+)^{-1}]^{-1}$ per il calcolo del vettore \mathbf{k}^T che permette il posizionamento arbitrario degli autovalori del sistema retroazionato può essere utilizzata

- ☐ per qualunque sistema;
- ☒ solo se il sistema è raggiungibile;
- ☐ solo se il sistema è osservabile;
- ☒ solo per sistemi ad un solo ingresso;